

SARDAR PATEL UNIVERSITY

OCTOBER - NOVEMBER : 2018 EXAMINATION, B.COM. SEMESTER : III
WEDNESDAY, 28/11/2018

MORNING SESSION TIME : 10.00 AM TO 12.00 PM
SUBJECT CODE : UB03SCOM07

REASONING ABILITY - I

TOTAL MARKS : 60

Q-1 Define entrance exam? Why entrance exam necessary? Explain any one of the entrance exam in detail? [15]

OR

Q-1 Write short note (any two) [15]
 (a) Types of reasoning
 (b) Importance of aptitude
 (c) Public exam
 (d) Difference between reasoning ability and general knowledge

Q-2 **Each question is compulsory & carry one mark.** [15]

- (1) From the following Find out the correct spelling.

(A) Accomplish	(B) Acomplush
(C) Ackmplesh	(D) Accompalish
- (2) A person of good understanding knowledge and reasoning power

(A) Expert	(B) Intellectual
(C) Snob	(D) Literate
- (3) PORK:PIG

(A) rooster:chicken	(B) mutton:sheep
(C) steer:beef	(D) lobster:crustacean
- (4) AFTER:BEFORE

(A) first:second	(B) present:past
(C) contemporary:historic	(D) successor:predecessor
- (5) DISTANCE:MILE

(A) liquid:litre	(B) bushel:corn
(C) weight:scale	(D) fame:television
- (6) Which word does NOT belong with the others?

(A) Heading	(B) Body
(C) Letter	(D) Closing
- (7) Look at this series: 31, 29, 24, 22, 17, ... What number should come next?

(A) 15	(B) 14
(C) 13	(D) 12
- (8) 9 11 33 13 15 33 17

(A) 19 33	(B) 33 35
(C) 33 19	(D) 15 33
- (9) From following numbers which number suitable for R*B-S ?

(A) 18	(B) 17
(C) 71	(D) 81
- (10) QAR, RAS, SAT, TAU, _____

(A) UAV	(B) UAT
(C) TAS	(D) TAT

- (11) A, B, C, D and E are sitting on a bench. A is sitting next to B, C is sitting next to D, D is not sitting with E who is on the left end of the bench. C is on the second position from the right. A is to the right of B and E. A and C are sitting together. In which position A is sitting ?
 (A) Between B and D (B) Between B and C
 (C) Between E and D (D) Between C and E
- (12) In a certain code 'MISSIONS' is written as 'MSIISNOS'. How is 'ONLINE' written in that code?
 (A) OLNNEI (B) ONILEN
 (C) NOILEN (D) LNOENI
- (13) In certain code 'HILTON' is written as 'I H T L N O'. How is 'BILLION' written in that code?
 (A) IBLLION (B) IBOILLN
 (C) IBLLOIN (D) IBLOILN
- (14) Introducing a boy, a girl said, "He is the son of the daughter of the father of my uncle." How is the boy related to the girl?
 (A) Brother (B) Nephew
 (C) Uncle (D) Son-in-law
- (15) To end in smoke
 (A) To make completely understand (B) To ruin oneself
 (C) To excite great applause (D) To overcome someone

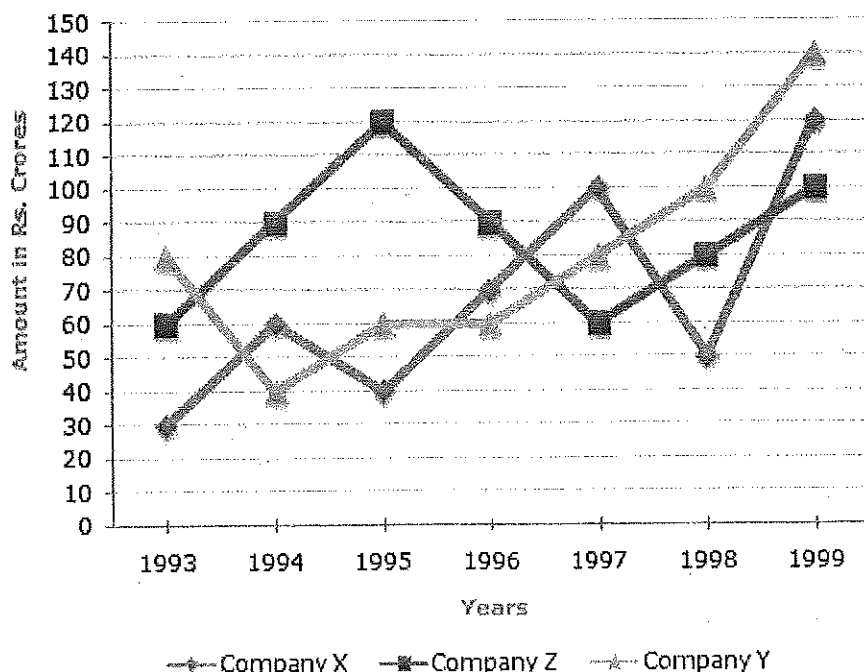
Q-3

Each question is compulsory & carry one mark.

[15]

Instruction for Question No. 1 to 5 : Study the following line graph and answer the questions.

Exports from Three Companies Over the Years (in Rs. crore)



- (1) For which of the following pairs of years the total exports from the three Companies together are equal?
 (A) 1995 and 1998 (B) 1996 and 1998
 (C) 1997 and 1998 (D) 1995 and 1996
- (2) Average annual exports during the given period for Company Y is approximately what percent of the average annual exports for Company Z?
 (A) 87.12% (B) 89.64%
 (C) 91.21% (D) 93.33%
- (3) In which year was the difference between the exports from Companies X and Y the minimum?
 (A) 1994 (B) 1995
 (C) 1996 (D) 1997

- (4) What was the difference between the average exports of the three Companies in 1993 and the average exports in 1998?
- (A) Rs. 15.33 crores (B) Rs. 18.67 crores
(C) Rs. 20 crores (D) Rs. 22.17 crores
- (5) In how many of the given years, were the exports from Company Z more than the average annual exports over the given years?
- (A) 2 (B) 3
(C) 4 (D) 5

Instruction for Question No. 6 to 10 :

Study the following table and answer the questions.

The following table gives the sales of batteries manufactured by a company over the years.
Number of Different Types of Batteries Sold by a Company Over the Years (Numbers in Thousands)

Year	Types of Batteries					
	4AH	7AH	32AH	35AH	55AH	Total
1992	75	144	114	102	108	543
1993	90	126	102	84	126	528
1994	96	114	75	105	135	525
1995	105	90	150	90	75	510
1996	90	75	135	75	90	465
1997	105	60	165	45	120	495
1998	115	85	160	100	145	605

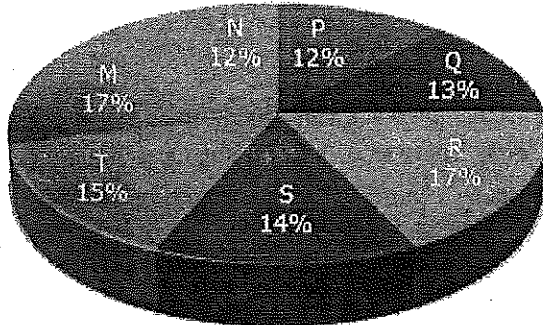
- (6) What was the approximate percentage increase in the sales of 55AH batteries in 1998 compared to that in 1992?
- (A) 28% (B) 31%
(C) 33% (D) 34%
- (7) The total sales of all the seven years is the maximum for which battery?
- (A) 4AH (B) 7AH
(C) 32AH (D) 35AH
- (8) What is the difference in the number of 35AH batteries sold in 1993 and 1997?
- (A) 24000 (B) 28000
(C) 35000 (D) 39000
- (9) The percentage of 4AH batteries sold to the total number of batteries sold was maximum in the year?
- (A) 1994 (B) 1995
(C) 1996 (D) 1997
- (10) In case of which battery there was a continuous decrease in sales from 1992 to 1997?
- (A) 4AH (B) 7AH
(C) 32AH (D) 35AH

Instruction for Question No. 11 to 15 : Study the following Pie-charts and answer the following questions.

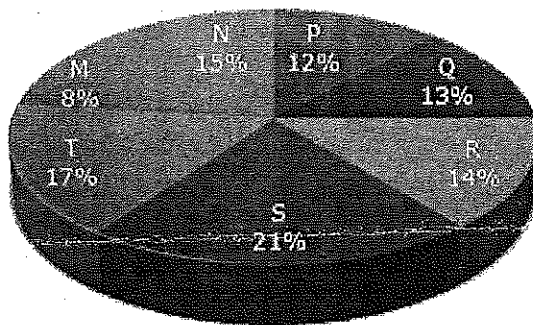
The following pie-charts show the distribution of students of graduate and post-graduate levels in seven different institutes in a town.

Distribution of students at graduate and post-graduate levels in seven institutes:

Total Number of Students of
Graduate Level = 27300



Total Number of Students of
Post-Graduate Level = 24700



- (11) What is the total number of graduate and post-graduate level students in institute R?
 - (A) 8320
 - (B) 7916
 - (C) 9116
 - (D) 8099
- (12) What is the ratio between the number of students studying at post-graduate and graduate levels respectively from institute S?
 - (A) 14 : 19
 - (B) 19 : 21
 - (C) 17 : 21
 - (D) 19 : 14
- (13) How many students of institutes of M and S are studying at graduate level?
 - (A) 7516
 - (B) 8463
 - (C) 9127
 - (D) 9404
- (14) What is the ratio between the number of students studying at post-graduate level from institutes S and the number of students studying at graduate level from institute Q?
 - (A) 13 : 19
 - (B) 21 : 13
 - (C) 13 : 8
 - (D) 19 : 13
- (15) Total number of students studying at post-graduate level from institutes N and P is
 - (A) 5601
 - (B) 5944
 - (C) 6669
 - (D) 8372

In the following the questions choose the word which best expresses the meaning of the given word. (Que. No. 1 to 5)

- (1) PRESTIGE

(A) Influence	(B) Quality
(C) Name	(D) Wealth
- (2) UNITE

(A) Unfold	(B) Unchain
(C) Combine	(D) Unhinge
- (3) REFECTORY

(A) Restaurant	(B) Parlour
(C) Living Room	(D) Dining Room
- (4) TURN UP

(A) Land up	(B) Show up
(C) Crop up	(D) Come up
- (5) SYNOPSIS

(A) Index	(B) Mixture
(C) Summary	(D) Puzzles

In the following questions choose the word which is the exact OPPOSITE of the given words. (Que. No. 6 to 10)

- (6) COMIC

(A) Emotional	(B) Tragic
(C) Fearful	(D) Painful
- (7) ARROGANT

(A) Humble	(B) Cowardly
(C) Egotistic	(D) Gentlemanly
- (8) AUTONOMY

(A) Slavery	(B) Subordination
(C) Dependence	(D) Submissiveness
- (9) BALANCE

(A) Disbalance	(B) Misbalance
(C) Debalance	(D) Imbalance
- (10) LIABILITY

(A) Property	(B) Assets
(C) Debt	(D) Treasure

Instruction for Question No. 11 to 15 :

Read paragraph carefully and answer the following question

At this stage of civilisation, when many nations are brought in to close and vital contact for good and evil, it is essential, as never before, that their gross ignorance of one another should be diminished, that they should begin to understand a little of one another's historical experience and resulting mentality. It is the fault of the English to expect the people of other countries to react as they do, to political and international situations. Our genuine goodwill and good intentions are often brought to nothing, because we expect other people to be like us. This would be corrected if we knew the history, not necessarily in detail but in broad outlines, of the social and political conditions which have given to each nation its present character.

- (11) According to the author of 'Mentality' of a nation is mainly product of its

(A) History	(B) international position
(C) Politics	(D) present character

- (12) The need for a greater understanding between nations
(A) was always there (B) is no longer there
(C) is more today than ever before (D) will always be there
- (13) The character of a nation is the result of its
(A) Mentality (B) cultural heritage
(C) gross ignorance (D) socio-political conditions
- (14) According to the author his countrymen should
(A) read the story of other nations (B) have a better understanding of other nations
(C) not react to other actions (D) have vital contacts with other nations
- (15) Englishmen like others to react to political situations like
(A) Us (B) Themselves
(C) Others (D) each others

—X—

6

[15-60]

SEAT No. _____

No. of Printed Pages : 6

SARDAR PATEL UNIVERSITY**OCTOBER – NOVEMBER : 2018 EXAMINATION, B.COM. SEMESTER : III****WEDNESDAY, 28/11/2018****MORNING SESSION TIME : 10.00 AM. TO 12.00 A.M.****SUBJECT CODE : UB03SCOM07****REASONING ABILITY - I****TOTAL MARKS : 60**

પ્રશ્ન-૧ પ્રવેશ પરીક્ષાની વ્યાખ્યા આપો. પ્રવેશ પરીક્ષા કેમ જરૂરી છે? કોઈપણ એક પ્રવેશ પરીક્ષા વિગતવાર જણાવો. [15]

અથવા

પ્રશ્ન-૧ ટૂંક નોંધ લખો. (કોઈપણ બે) [15]

(અ) તર્કશક્તિના પ્રકાર
(બ) યોગ્યતાનું મહત્વ
(ક) જાહેર પરીક્ષા
(ડ) તર્કશક્તિ અને સામાન્ય જ્ઞાન વચ્ચેનો તફાવત

પ્રશ્ન-૨ આપેલા વિકલ્પોમાંથી સાચો જવાબ પસંદ કરો. [15]

૧. નીચેનામાંથી સાચી સ્પેલિંગ શોધી કાઢો.
(અ) Accomplish (બ) Acomplush
(ક) Ackemplesh (ડ) Accompalish
૨. સારી સમજણ અને તર્ક શક્તિ ધરાવનાર વ્યક્તિ -
(અ) નિષ્ણાંત (બ) બૌદ્ધિક
(ક) શ્રેષ્ઠ (ડ) શિક્ષિત
૩. પ્રોક : ફુક્કર
(અ) રુસ્ટર : ચિકન (બ) મટન : ઘેટું
(ક) વાછરું : ભેંસ (ડ) કરચલો : કવચધારી પ્રાણી
૪. પછી : પહેલાં
(અ) પ્રથમ : દ્વિતીય (બ) વર્તમાન : ભૂતકાળ
(ક) સમકાલીન : ઐતિહાસિક (ડ) અનુગામી : પુરોગામી
૫. અંતર : માઈલ
(અ) પ્રવાહી : લિટર (બ) અનાજનું માપદંડ : મકાઈ
(ક) વજન : ધોરણ / ટર (ડ) ખ્યાતિ : ટેલિવિઝન
૬. નીચેનામાંથી જુદો પડતો શબ્દ શોધી કાઢો
(અ) Heading (બ) Body
(ક) Letter (ડ) Closing
૭. આપેલ અંકશૃંખલા જોઈ કયો અંક પછી આવશે તે જણાવો : ૩૧, ૨૯, ૨૪, ૨૨, ૧૭...
(અ) ૧૫ (બ) ૧૪
(ક) ૧૩ (ડ) ૧૨
૮. ૯ ૧૧ ૩૩ ૧૩ ૧૫ ૩૩ ૧૭
(અ) ૧૯ ૩૩ (બ) ૩૩ ૩૫
(ક) ૩૩ ૧૯ (ડ) ૧૫ ૩૩

①

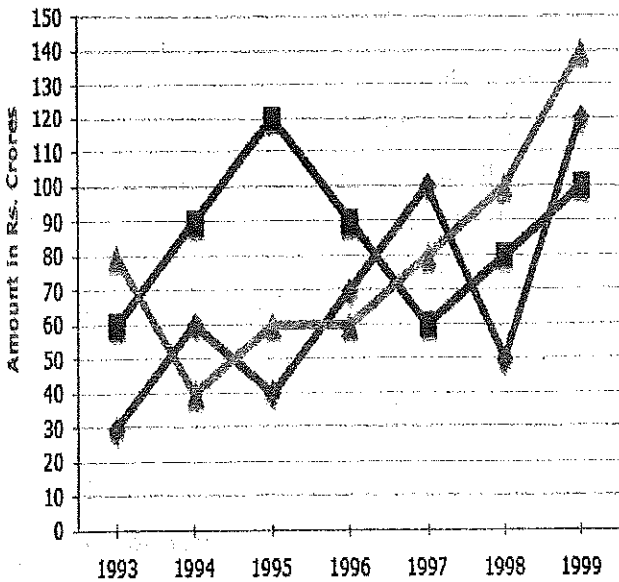
CPT-07

૯. નીચે આપેલ અંકોમાંથી કયો અંક R X B - S સાથે બંધબેસતો છે?
- (અ) ૧૮ (બ) ૧૭
(ક) ૭૧ (ડ) ૮૧
૧૦. QAR, RAS, SAT, TAU, _____
- (અ) UAV (બ) UAT
(ક) TAS (ડ) TAT
૧૧. A, B, C, D અને E એક પાટલી પર બેઠા છે. A એ B ની પછી બેઠેલ છે, C એ D ની પછી બેઠેલ છે. પરંતુ D એ E સાથે બેઠેલ નથી. E એ પાટલીની ડાબી તરફ અંતમાં બેઠેલ છે. C એ જમણી તરફથી બીજા ક્રમાંકે બેઠેલ છે. A એ B અને E ની જમણી તરફ બેઠેલ છે. A અને C સાથે બેઠેલા છે. તો આમાંથી A ક્યાં બેઠેલ છે?
- (અ) B અને D વચ્ચે (બ) B અને C વચ્ચે
(ક) E અને D વચ્ચે (ડ) C અને E વચ્ચે
૧૨. જો MISSIONS નો કોડ MSIIISNOS હોય તો ONLINE નો કોડ શોધો.
- (અ) OLNNIE (બ) ONILEN
(ક) NOILEN (ડ) LNOENI
૧૩. જો HILTON નો કોડ IHTLNO હોય તો BILLION નો કોડ શોધો.
- (અ) IBLLION (બ) IBOILLN
(ક) IBLLION (ડ) IBLOILN
૧૪. એક છોકરાનો પરિચય આપતા એક છોકરીએ કહ્યું, “તે મારા કાકાના પિતાના પુત્રીનો દીકરો છે.” છોકરો છોકરી સાથે કેવી રીતે સંબંધિત છે?
- (અ) ભાઈ (બ) ભત્રીજો
(ક) કાકા (ડ) જમાઈ
૧૫. ધુમ્પાન બંધ કરવા માટે
- (અ) સંપૂર્ણપણે સમજવું (બ) પોતાને નષ્ટ કરવું
(ક) મહાન અભિવાદન ઉત્તેજિત કરવું (ડ) કોઈને દૂર કરવું

પ્રશ્ન-૩ આપેલા વિકલ્પોમાંથી સાચો જવાબ પસંદ કરો.

[15]

સૂચના : પ્રશ્ન નં. ૧ થી ૫ માટે : નીચે આપેલ રેખાચિત્રનો અભ્યાસ કરી આપેલ પ્રશ્નોના ઉત્તર આપો.



૧. નીચેનામાંથી કયા વર્ષોમાં ત્રણ કંપનીઓની કુલ નિકાસ સમાન છે?
 (અ) ૧૯૯૫ અને ૧૯૯૮ (બ) ૧૯૯૬ અને ૧૯૯૮
 (ક) ૧૯૯૭ અને ૧૯૯૮ (ડ) ૧૯૯૫ અને ૧૯૯૬
૨. કંપની Y માટે આપેલ સમયગાળા દરમિયાન સરેરાશ વાર્ષિક નિકાસ કંપની Z માટે સરેરાશ વાર્ષિક નિકાસના કેટલા ટકા છે?
 (અ) ૮૭.૧૨% (બ) ૮૯.૬૪%
 (ક) ૯૧.૨૧% (ડ) ૯૩.૩૩%
૩. કંપની X અને Y ની નિકાસ વચ્ચે કયા વર્ષમાં ન્યૂનતમ તફાવત છે?
 (અ) ૧૯૯૪ (બ) ૧૯૯૫
 (ક) ૧૯૯૬ (ડ) ૧૯૯૭
૪. ૧૯૯૩માં ત્રણ કંપનીઓની સરેરાશ નિકાસ અને ૧૯૯૮ માં સરેરાશ નિકાસ વચ્ચેનો તફાવત કેટલો છે?
 (અ) રૂ. ૧૫.૩૩ કરોડ (બ) રૂ. ૧૮.૬૭ કરોડ
 (ક) રૂ. ૨૦ કરોડ (ડ) રૂ. ૨૨.૧૭ કરોડ
૫. આપેલ વર્ષોમાં કેટલી વાર સરેરાશ વાર્ષિક નિકાસ કરતી કંપની Z ની નિકાસ કરવામાં આવી હતી?
 (અ) ૨ (બ) ૩
 (ક) ૪ (ડ) ૫

સૂચના પ્રશ્ન નં. ૬ થી ૧૦ માટે :

નીચે દર્શાવેલ કોષ્ટક માટે એક કંપની દ્વારા ઉત્પાદિત બેટરીનું જુદા જુદા વર્ષોમાં વેચાણ દર્શાવે છે. વિવિધ પ્રકારની બેટરીની સંખ્યા હજારના આંકમાં આપેલ છે.

Year	Types of Batteries					
	4AH	7AH	32AH	35AH	55AH	Total
1992	75	144	114	102	108	543
1993	90	126	102	84	126	528
1994	96	114	75	105	135	525
1995	105	90	150	90	75	510
1996	90	75	135	75	90	465
1997	105	60	165	45	120	495
1998	115	85	160	100	145	605

૬. ૧૯૯૨ ની સરખામણીમાં ૧૯૯૮ માં 55AH બેટરીના વેચાણમાં આશરે કેટલા ટકા વધારો દર્શાવે છે?
 (અ) ૨૮% (બ) ૩૧%
 (ક) ૩૩% (ડ) ૩૪%
૭. કઈ બેટરીનું કુલ વેચાણ સાત વર્ષોમાં મહત્તમ છે?
 (અ) 4AH (બ) 7AH

(ક) 32AH

(ડ) 35AH

૮. ૧૯૯૩ અને ૧૯૯૭ ના વર્ષમાં વેચાયેલ 35AH બેટરીના વેચાણમાં કેટલો તફાવત છે?

(અ) ૨૪૦૦૦

(બ) ૨૮૦૦૦

(ક) ૩૫૦૦૦

(ડ) ૩૯૦૦૦

૯. કુલ બેટરીના વેચાણની સંખ્યાની તુલનામાં 4AH બેટરીના વેચાણની ટકાવારી કયા વર્ષમાં મહત્તમ હતી?

(અ) ૧૯૯૪

(બ) ૧૯૯૫

(ક) ૧૯૯૬

(ડ) ૧૯૯૭

૧૦. કઈ બેટરીના વેચાણમાં ૧૯૯૨ થી ૧૯૯૭ દરમિયાન સતત ઘટાડો નોંધાયો છે?

(અ) 4AH

(બ) 7AH


(ક) 32AH

(ડ) 35AH


પ્રશ્ન નં. ૧૧ થી ૧૫ માટે સૂચના :

નીચે આપેલા પાઈ ચાર્ટમાં સ્નાતક અને અનુસ્નાતક જુદા જુદા સ્તરે સંસ્થામાં અભ્યાસ કરતાં વિદ્યાર્થીની માહિતી દર્શાવે છે. સ્નાતક : ૨૭૩૦૦ અને અનુસ્નાતક : ૨૪૭૦૦

Total Number of Students of Graduate Level = 27300



Total Number of Students of Post-Graduate Level = 24700



૧૧. R સંસ્થામાં સ્નાતક અને અનુસ્નાતક સ્તરે અભ્યાસ કરતાં કુલ વિદ્યાર્થીની સંખ્યા કેટલી?

(અ) ૮૩૨૦

(બ) ૭૯૧૬

(ક) ૯૧૧૬

(ડ) ૮૦૯૯

૮. સ્વાયતતા
 (અ) ગુલામી (બ) આધિનતા
 (ક) પરાધિનતા (ડ) આઝાદિતા
૯. સમતોલન
 (અ) કિસેબેલેન્સ (બ) મિસબેલેન્સ
 (ક) ડિબેલેન્સ (ડ) અસંતુલન
૧૦. જવાબદારી
 (અ) સંપત્તિ (બ) મિલકત
 (ક) દેવું (ડ) ખજાનો

સૂચના : પ્રશ્ન નં. ૧૧ થી ૧૫ માટે : નીચેનો ફકરો વાંચી પ્રશ્નોના જવાબ આપો.

સભ્યતાના આ સ્તરે કે જ્યારે ઘણા દેશો સારી અને ખરાબ બાબતો માટે એકબીજાની નજીક અને મહત્વપૂર્ણ સંપર્કમાં આવ્યા છે ત્યારે એ જરૂરી છે, જે પહેલાં ક્યારેય ન હતું, કે તેઓની એકબીજાની કુલ અવગણના ઘટવી જોઈએ, કે તેઓએ એકબીજાના થોડા ઐતિહાસિક અનુભવો અને તેના પરિણામે માનસિકતા સમજવાની શરૂઆત કરવી જોઈએ. એવી અપેક્ષા રાખવી અંગ્રેજોની ભૂલ છે કે રાજનીતિ અને અન્ય આંતરરાષ્ટ્રીય સ્થિતિઓમાં બીજા દેશોના લોકો પોતે જે ઈચ્છે એ પ્રમાણે કરે. આપણી ખરેખર મિત્રતા અને સારા ઈરાદાઓ ઘણીવાર ફળ આપતા નથી, કારણ કે આપણે ઈચ્છીએ છીએ કે બીજા લોકો આપણા જેવા બને. એમાં સુધારો થશે જો આપણે અન્ય દેશોની સામાજિક અને રાજનૈતિક પરિસ્થિતિઓ વિશે ઇતિહાસ જાણીએ, જરૂરી નથી કે વિસ્તૃત રીતે પરંતુ વિસ્તૃત સારાંશ દ્વારા, કે જાણે દરેક દેશને પોતાના વર્તમાન લાક્ષણિકતાઓ આપી છે.

૧૧. લેખકના મતે દેશની 'માનસિકતા' મુખ્યત્વે ફળ છે, તેની -
 (અ) ઇતિહાસની (બ) આંતરરાષ્ટ્રીય સ્થાનની
 (ક) રાજનીતીની (ડ) વર્તમાન લક્ષણોની
૧૨. દેશો વચ્ચેની સમજની આવશ્યકતા -
 (અ) હંમેશા ત્યાં હતી. (બ) હવે વધારે રહી નથી.
 (ક) પહેલાં કરતાં હવે વધારે છે. (ડ) હંમેશા રહેશે.
૧૩. દેશના લક્ષણોએ પરિણામ છે તેની -
 (અ) માનસિકતાનું (બ) સાંસ્કૃતિક વારસાનું
 (ક) કુલ અવગણનાનું (ડ) સામાજિક-રાજનીતિક સ્થિતિનું
૧૪. લેખકના મત પ્રમાણે તેના દેશવાસીઓએ -
 (અ) બીજા દેશોની વાર્તા વાંચવી જોઈએ. (બ) બીજા દેશોની સારી સમજ હોવી જોઈએ.
 (ક) બીજાના પગલાં સામે પ્રત્યુત્તર ન આપવો. (ડ) અન્ય દેશો સાથે મહત્વપૂર્ણ સંપર્ક રાખવો.
૧૫. અંગ્રેજોને બીજા લોકો રાજકીય પરિસ્થિતિઓને પ્રતિભાવ આપે -
 (અ) આપણા જેવો (બ) તેમના જેવો
 (ક) બીજાના જેવો (ડ) એકબીજા જેવો

— 6 —

૧૨. S સંસ્થામાં અભ્યાસ કરતાં અનુસ્નાતક અને સ્નાતક વિદ્યાર્થીઓ વચ્ચેનો ગુણોત્તર શોધો.
 (અ) ૧૪:૧૯ (બ) ૧૯:૨૧
 (ક) ૧૭:૨૧ (ડ) ૧૯:૧૪
૧૩. M અને S સંસ્થામાં સ્નાતક સ્તરે કેટલા વિદ્યાર્થીઓ અભ્યાસ કરે છે?
 (અ) ૭૫૧૬ (બ) ૮૪૬૩
 (ક) ૯૧૨૭ (ડ) ૯૪૦૪
૧૪. S સંસ્થામાં અનુસ્નાતક સ્તરે અભ્યાસ કરતાં વિદ્યાર્થીઓ અને Q સંસ્થામાં સ્નાતક સ્તરે અભ્યાસ કરતાં વિદ્યાર્થી વચ્ચેનો ગુણોત્તર શોધો.
 (અ) ૧૩ : ૧૯ (બ) ૨૧ : ૧૩
 (ક) ૧૩ : ૮ (ડ) ૧૯ : ૧૩
૧૫. N અને P સંસ્થામાં અનુસ્નાતક સ્તરે કુલ કેટલા વિદ્યાર્થીઓ અભ્યાસ કરે છે?
 (અ) ૫૬૦૧ (બ) ૫૯૪૪
 (ક) ૬૬૬૯ (ડ) ૮૩૭૨

પ્રશ્ન-૪ આપેલા વિકલ્પોમાંથી સાચો જવાબ પસંદ કરો.

નીચે આપેલા શબ્દો માટે આપેલ વિકલ્પોમાંથી સમાનાર્થી શબ્દો શોધો. (પ્રશ્ન નં. ૧ થી ૫) [15]

૧. પ્રતિષ્ઠા
 (અ) પ્રભાવ (બ) ગુણવત્તા
 (ક) નામ (ડ) સંપત્તિ
૨. એકતા
 (અ) જાહેર (બ) બિન સંકળાયેલ
 (ક) ભેગું / એકત્રીકરણ (ડ) ધૂની
૩. ભોજનશાળા
 (અ) રેસ્ટોરન્ટ (બ) પાર્લર
 (ક) રહેઠાણનો ઓરડો (ડ) ભોજનખંડ
૪. ચાલુ કરો
 (અ) જમીન પર (બ) બતાવું
 (ક) કાપવું (ડ) આપવું
૫. સારાંશ
 (અ) અનુક્રમણિકા (બ) મિશ્રણ
 (ક) સંક્ષિપ્ત (ડ) કોયડા

નીચે આપેલા શબ્દો માટે આપેલ વિકલ્પોમાંથી વિરુદ્ધાર્થી શબ્દો શોધો. (પ્રશ્ન નં. ૬ થી ૧૦)

૬. હાસ્યોત્પાદક
 (અ) ભાવનાશીલ (બ) દુઃખદ
 (ક) ભયજનક (ડ) પીડાજનક
૭. ઘમંડી
 (અ) નમ્ર (બ) કાયર
 (ક) અહંકારી (ડ) સજ્જન