

SEAT No. _____

SARDAR PATEL UNIVERSITY**[20-6] JANUARY : 2021 EXAMINATION, B.COM. SEMESTER : III****FRIDAY, 7/01/2021****MORNING SESSION TIME : 10.00 AM. TO 12.00 A.M.****SUBJECT CODE : UB03SCOM07****REASONING ABILITY - I****TOTAL MARKS : 60**

- પ્રશ્ન-૧ જાહેર પરીક્ષાનો અર્થ આપીતેની યાદી બનાવી કોઈપણ એક જાહેર પરીક્ષા વિસ્તૃત રીતે સમજાવો. [15]
- અથવા
- પ્રશ્ન-૧ (અ) એપ્ટીટ્યુડનું મહત્વ - ટૂંક નોંધ લખો. [08]
- પ્રશ્ન-૧ (બ) રીઝર્નીંગ એબીલીટી અને સામાન્ય જ્ઞાન વચ્ચે તફાવત સ્પષ્ટ કરો. [07]
- પ્રશ્ન-૨ આપેલા વિકલ્પોમાંથી સાચો જવાબ પસંદ કરો. [15]
૧. ૩, ૮, ૧૩, ૧૮, ૨૩, ૨૮, ૩૩
 (અ) ૩૯ ૪૪ (બ) ૩૮ ૪૪
 (ક) ૩૮ ૪૩ (ડ) ૩૭ ૪૨
 ૨. ૯ ૧૨ ૧૧ ૧૪ ૧૩ ૧૬ ૧૫
 (અ) ૧૪ ૧૩ (બ) ૧૮ ૨૧
 (ક) ૧૪ ૧૭ (ડ) ૧૮ ૧૭
 ૩. નીચેનામાંથી કયો શબ્દ અન્ય શબ્દો સાથે બંધ બેસતો નથી?
 (અ) ડાળી (બ) ગંદકી
 (ક) પાંદડું (ડ) મૂળ
 ૪. ELFA, GLHA, ILJA, _____ MLNA
 (અ) OLPA (બ) KLMA
 (ક) LLMA (ડ) KLLA
 ૫. અમુક રીતે MENTION ને LNEITNO લખાય, તો PATTERN ને લખાશે..
 (અ) ATAETNR (બ) OTAETNR
 (ક) OTAESNR (ડ) STAETNR
 ૬. વૃંદસંચાલક : વાદકવૃંદ
 (અ) હાસ્યકાર : ઘોડા પર ચઢવું (બ) થ્રેસર : ઘાસની ગંજી
 (ક) ડ્રાઈવર : ટ્રેકટર (ડ) આગેવાન : ટોળી
 ૭. કમળો : ચક્રત
 (અ) અળાઈ : ચામડી (બ) અપોહન : કિડની
 (ક) ધુમ્મસ : ફેફસાં (ડ) વેલેન્ટાઈન : હૃદય
 ૮. $L + B - P = ?$ માટે યોગ્ય અંક શોધો.
 (અ) ૨ (બ) -૨
 (ક) ૫ (ડ) -૫

૯. અમુક રીતે SIKKIM ને THLJJL લખાય છે તો TRAINNING ને લખાશે -

(અ) SQBHOHOF

(બ) UQBHOIOF

(ક) UQBHOHOI

(ડ) UQBHOHOF

સૂચના : પ્રશ્ન નં. ૧૦ થી ૧૨ માટે : આપેલ માહિતી પરથી પ્રશ્નના જવાબ આપો.

છ છોકરીઓ વર્તુળના કેન્દ્ર તરફ મોં રાખીને બેઠી છે. તેઓ P, Q, R, S, T અને V છે. T એ Q અને S ની વચ્ચે નથી પરંતુ કોઈ અન્ય છે. P એ V ની તરત જ ડાબી બાજુ છે. R એ P ની જમણી બાજુ ચોથા ક્રમે છે.

૧૦. નીચેનામાંથી કયું વિધાન સાચું નથી?

(અ) S એ R ની તરત જ જમણી બાજુ છે.

(બ) T એ V ની જમણી બાજુ તરત જ પછીના ક્રમે છે.

(ક) R એ T ની ડાબી બાજુએ બીજા ક્રમે છે.

(ડ) P એ R ની જમણી બાજુએ બીજા ક્રમે છે.

૧૧. જો P અને R તેમની જગ્યા બદલે છે તો નીચેનામાંથી કઈ જોડી સાથે બેસશે?

(અ) RT

(બ) PV

(ક) VT

(ડ) QV

૧૨. T ની સ્થિતિ શું છે?

(અ) Q ની તરત જ જમણી બાજુ

(બ) P ની ડાબી બાજુ બીજા ક્રમે

(ક) Q અને R ની વચ્ચે

(ડ) V ની તરત જ જમણી બાજુ

૧૩. જહોને તેની ટ્રક અથડાવ્યો કારણ કે -

(અ) તે ટ્રક ચલાવતો હતો.

(બ) તે ખૂબ જ ઝડપથી ટ્રક હંકારતો હતો.

(ક) તે ખૂબ ચોક્કસાઈથી ટ્રક ચલાવતો હતો.

(ડ) તે મૂર્ખ હતો.

સૂચના : પ્રશ્ન નં. : ૧૪ અને ૧૫ માટે :

(અ) જો વાક્ય હકીકત હોય

(બ) જો વાક્ય સલાહ હોય

(ક) જો વાક્ય મંતવ્ય હોય

(ડ) જો વાક્ય અનુમાન હોય

૧૪. કૂતરાની રૂંવાટી આકર્ષક છે.

(અ) અ

(બ) બ

(ક) ક

(ડ) ડ

૧૫. બેટલ્સ એ ગાયક વૃંદ હતું.

(અ) અ

(બ) બ

(ક) ક

(ડ) ડ

પ્રશ્ન-૩ આપેલા વિકલ્પોમાંથી સાચો જવાબ પસંદ કરો. (પ્રશ્ન નં. ૧૬ થી ૩૦)

[15]

સૂચના : પ્રશ્ન નં. ૧૬ થી ૨૦ માટે :

નીચે દર્શાવેલ કોષ્ટક માટે એક કંપની દ્વારા ઉત્પાદિત બેટરીનું જુદા જુદા વર્ષોમાં વેચાણ દર્શાવેલ છે. વિવિધ પ્રકારની બેટરીની સંખ્યા હજારના આંકમાં આપેલ છે.

Year	Types of Batteries					
	4AH	7AH	32AH	35AH	55AH	Total
1992	75	144	114	102	108	543
1993	90	126	102	84	126	528
1994	96	114	75	105	135	525
1995	105	90	150	90	75	510
1996	90	75	135	75	90	465
1997	105	60	165	45	120	495
1998	115	85	160	100	145	605

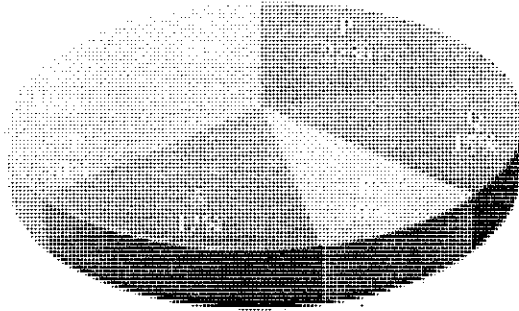
૧૬. ૧૯૯૨ ની સરખામણીમાં ૧૯૯૮ માં 55AH બેટરીના વેચાણમાં આશરે કેટલા ટકા વધારો દર્શાવે છે?
- (અ) ૨૮% (બ) ૩૧%
(ક) ૩૩% (ડ) ૩૪%
૧૭. કઈ બેટરીનું કુલ વેચાણ સાત વર્ષોમાં મહત્તમ છે?
- (અ) 4AH (બ) 7AH
(ક) 32AH (ડ) 35AH
૧૮. ૧૯૯૩ અને ૧૯૯૭ ના વર્ષમાં વેચાયેલ 35AH બેટરીના વેચાણમાં કેટલો તફાવત છે?
- (અ) ૨૪૦૦૦ (બ) ૨૮૦૦૦
(ક) ૩૫૦૦૦ (ડ) ૩૯૦૦૦
૧૯. કુલ બેટરીના વેચાણની સંખ્યાની તુલનામાં 4AH બેટરીના વેચાણની ટકાવારી કયા વર્ષમાં મહત્તમ હતી?
- (અ) ૧૯૯૪ (બ) ૧૯૯૫
(ક) ૧૯૯૬ (ડ) ૧૯૯૭
૨૦. કઈ બેટરીના વેચાણમાં ૧૯૯૨ થી ૧૯૯૭ દરમિયાન સતત ઘટાડો નોંધાયો છે?
- (અ) 4AH (બ) 7AH
(ક) 32AH (ડ) 35AH

સૂચના : પ્રશ્ન નં. ૨૧ થી ૨૫ માટે :


નીચેના ગ્રાફનો અભ્યાસ કરી આપેલા પ્રશ્નોના જવાબ આપો.

એમ.બી.એ.ની પ્રવેશ પરીક્ષામાં નોંધાયેલ ઉમેદવારો તથા વિવિધ સંસ્થાઓમાંથી પ્રવેશ પરીક્ષામાં પાસ થયેલ ઉમેદવારોની સંખ્યાની વહેંચણી દર્શાવેલ છે.

નોંધાયેલ ઉમેદવારો = ૮૫૫૦



પરીક્ષામાં પાસ થયેલ ઉમેદવારો = ૫૭૦૦



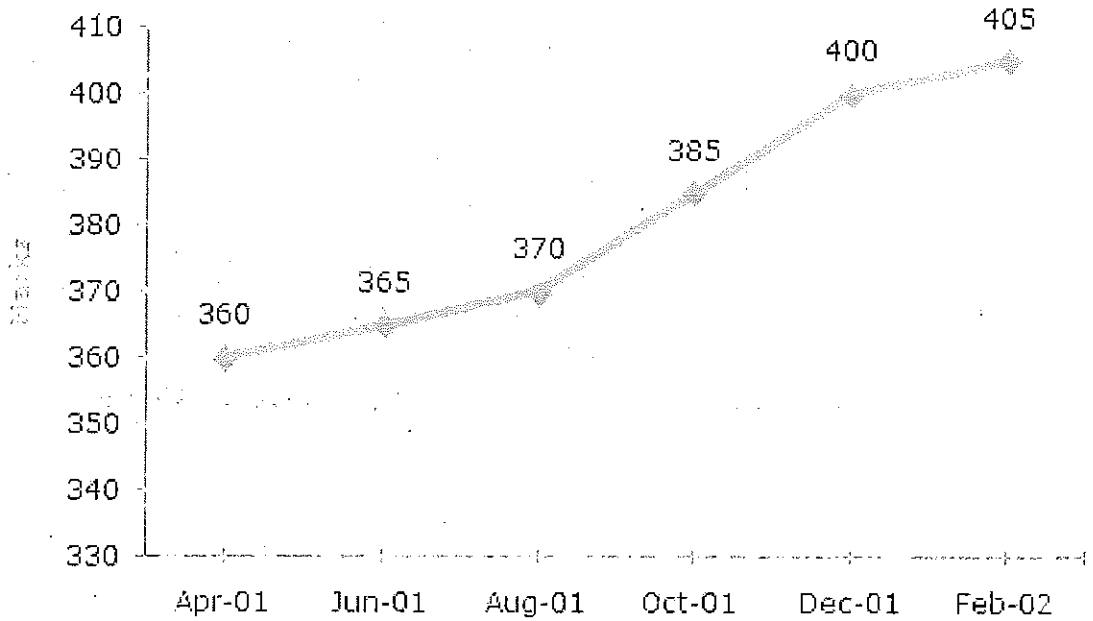
૨૧. T સંસ્થામાંથી કુલ નોંધાયેલ ઉમેદવારોમાંથી કેટલા ટકા ઉમેદવારોએ પરીક્ષા પાસ કરી?
- (અ) ૫૦% (બ) ૬૨.૫%
(ક) ૭૫% (ડ) ૮૦%
૨૨. કઈ સંસ્થામાંથી નોંધાયેલ ઉમેદવારોમાંથી સૌથી વધુ ઉમેદવારો પાસ થયા છે?
- (અ) Q (બ) R
(ક) V (ડ) T
૨૩. T અને R ના નોંધાયેલ કુલ ઉમેદવારો કરતાં S અને P સંસ્થામાંથી પાસ થયેલ કુલ ઉમેદવારો કેટલાં વધારે છે?
- (અ) ૨૨૮ (બ) ૨૭૯
(ક) ૩૯૯ (ડ) ૪૦૭
૨૪. Q અને R સંસ્થાના કુલ નોંધાયેલ ઉમેદવારોના પ્રમાણમાં પાસ થયેલ ઉમેદવારોનું પ્રમાણ કેટલા ટકા છે?
- (અ) ૬૮% (બ) ૮૦%
(ક) ૭૪% (ડ) ૬૫%
૨૫. સંસ્થા P માં નોંધાયેલ અને તેમાંથી પાસ થયેલ ઉમેદવારોનો ગુણોત્તર કેટલો છે?
- (અ) ૯ : ૧૧ (બ) ૧૪ : ૧૭
(ક) ૬ : ૧૧ (ડ) ૯ : ૧૭

સૂચના : પ્રશ્ન નં. ૨૬ થી ૩૦ માટે

એક શાળામાં દર બે મહિને આંતરિક કસોટીનું આયોજન કરવામાં આવે છે. એપ્રિલ ૨૦૦૧ - માર્ચ : ૨૦૦૨ના સત્રમાં ધોરણ - ૯ માં ઉપસ્થિત વિદ્યાર્થીઓની સંખ્યા તથા દરેક આંતરિક પરીક્ષામાં તેમના દ્વારા મેળવેલ કુલ ગુણને રેખા દ્વારા નીચે મુજબ દર્શાવેલ છે.

૨૦૦૧ - ૦૨ના વર્ષમાં દર બે મહિને યોજાયેલ છ આંતરિક પરીક્ષામાં વિદ્યાર્થીઓ દ્વારા મેળવેલ ગુણ

દરેક આંતરિક પરીક્ષાના મહત્તમ કુલ ગુણ = ૫૦૦



૨૬. કઈ આંતરિક કસોટીમાં અગાઉની આંતરિક પરીક્ષા કરતા ગુણમાં સૌથી વધારે ટકાવારી વધારો મેળવ્યો છે?
- (અ) જુન, ૦૧ (બ) ઓગષ્ટ, ૦૧
(ક) ઓક્ટોબર, ૦૧ (ડ) ડિસેમ્બર, ૦૧
૨૭. ફેબ્રુઆરી-૦૨ માં મેળવેલ કુલ ગુણ એપ્રિલ - ૦૧ માં મેળવેલ કુલ ગુણના કેટલા ટકા છે?
- (અ) ૧૧૦% (બ) ૧૧૨.૫%
(ક) ૧૧૫% (ડ) ૧૧૬.૫%
૨૮. ઓગષ્ટ - ૦૧ અને ઓક્ટોબર - ૦૧ ની પરીક્ષાને સાથે લઈએ તો વિદ્યાર્થીઓ દ્વારા કેટલા ગુણ મેળવ્યા છે?
- (અ) ૭૩.૨૫% (બ) ૭૫.૫% (ક) ૭૭% (ડ) ૭૮.૭૫%
૨૯. છેલ્લાં સત્રમાં બધી જ આંતરિક પરીક્ષામાં વિદ્યાર્થીઓ દ્વારા સરેરાશ કેટલા ગુણ મેળવ્યા છે?
- (અ) ૩૭૩ (બ) ૩૭૯ (ક) ૩૮૧ (ડ) ૩૮૫
૩૦. કઈ આંતરિક પરીક્ષામાં અગાઉની આંતરિક પરીક્ષાની સરખામણીએ ટકાવારી ગુણ ઘટ્યો છે?
- (અ) એક પણ નહિ (બ) જુન, ૦૧
(ક) ઓક્ટોબર, ૦૧ (ડ) ફેબ્રુઆરી, ૦૨

પ્રશ્ન-૪ આપેલા વિકલ્પોમાંથી સાચો જવાબ પસંદ કરો.

[15]

સૂચના : પ્રશ્ન નં. ૩૧ થી ૩૫ માટે :

નીચેનો ફકરો વાંચી પ્રશ્નોના જવાબ આપો.

સત્યતાના આ સ્તરે કે જ્યારે ઘણા દેશો સારી અને ખરાબ બાબતો માટે એકબીજાની નજીક અને મહત્વપૂર્ણ સંપર્કમાં આવ્યા છે ત્યારે એ જરૂરી છે, જે પહેલાં ક્યારેય ન હતું, કે તેઓની એકબીજાની કુલ અવગણના ઘટવી જોઈએ, કે તેઓએ એકબીજાના થોડા ઐતિહાસિક અનુભવો અને તેના પરિણામે માનસિકતા સમજવાની શરૂઆત કરવી જોઈએ. એવી અપેક્ષા રાખવી અંગ્રેજોની ભૂલ છે કે રાજનીતિ અને અન્ય આંતરરાષ્ટ્રીય સ્થિતિઓમાં બીજા દેશોના લોકો પોતે જે ઈચ્છે એ પ્રમાણે કરે. આપણી ખરેખર મિત્રતા અને સારા ઈશદાઓ ઘણીવાર ફળ આપતા નથી, કારણ કે આપણે ઈચ્છીએ છીએ કે બીજા લોકો આપણા જેવા બને. એમાં સુધારો થશે જો આપણે અન્ય દેશોની સામાજિક અને રાજનૈતિક પરિસ્થિતિઓ વિશે ઇતિહાસ જાણીએ, જરૂરી નથી કે વિસ્તૃત રીતે પરંતુ વિસ્તૃત સારાંશ દ્વારા, કે જાણે દરેક દેશને પોતાના વર્તમાન લાક્ષણિકતાઓ આપી છે.

૩૧. લેખકના મતે દેશની 'માનસિકતા' મુખ્યત્વે ફળ છે, તેની -

- (અ) ઇતિહાસની (બ) આંતરરાષ્ટ્રીય સ્થાનની
(ક) રાજનીતીની (ડ) વર્તમાન લક્ષણોની

૩૨. દેશો વચ્ચેની સમજણની આવશ્યકતા -

- (અ) હંમેશા ત્યાં હતી. (બ) હવે વધારે રહી નથી.
(ક) પહેલાં કરતાં હવે વધારે છે. (ડ) હંમેશા રહેશે.

૩૩. દેશના લક્ષણોએ પરિણામ છે તેની -

- (અ) માનસિકતાનું (બ) સાંસ્કૃતિક વારસાનું
(ક) કુલ અવગણનાનું (ડ) સામાજિક-રાજનીતિક સ્થિતિનું

૩૪. લેખકના મત પ્રમાણે તેનાં દેશવાસીઓએ -

- (અ) બીજા દેશોની વાર્તા વાંચવી જોઈએ. (બ) બીજા દેશોની સારી સમજ હોવી જોઈએ.
(ક) બીજાના પગલાં સામે પ્રત્યુત્તર ન આપવો. (ડ) અન્ય દેશો સાથે મહત્વપૂર્ણ સંપર્ક રાખવો.

૩૫. અંગ્રેજોને બીજા લોકો રાજકિય પરિસ્થિતિઓને પ્રતિભાવ આપે -

(અ) આપણા જેવો

(બ) તેમના જેવો

(ક) બીજાના જેવા

(ડ) એકબીજા જેવો

સૂચના : પ્રશ્ન નં. ૩૬ થી ૪૦ માટે :

નીચે આપેલા શબ્દો માટે આપેલ વિકલ્પોમાંથી સમાનાર્થી શબ્દો શોધો.

૩૬. તટસ્થ

(અ) નિષ્પક્ષ

(બ) આક્ષેપ વિહોણો

(ક) અનિર્ણિત

(ડ) પક્ષપાત વગર

૩૭. છીછરું

(અ) કૃત્રિમ

(બ) ઊંડું ન હોય તેવું

(ક) મૂર્ખ

(ડ) કિંમતી

૩૮. દિશાપલટો

(અ) મનોરંજન પાર્ક

(બ) વિકૃતિ

(ક) વિષયાંતર

(ડ) બાજુનો રસ્તો

૩૯. નાદાર

(અ) ગરીબ

(બ) દેવાળીયો

(ક) નિરાધાર

(ડ) તૂટેલું

૪૦. સમજાવી ન શકાય તેવું

(અ) ગૂંચવી નાંખનાર

(બ) બેજવાબદાર

(ક) વેરવિખેર

(ડ) અસંબંધિ

સૂચના : પ્રશ્ન નં. ૪૧ થી ૪૫ માટે

નીચે આપેલા વિકલ્પોમાંથી આપેલ શબ્દોના વિરુદ્ધાર્થી શબ્દો શોધો.

૪૧. લાયક

(અ) અક્ષમ

(બ) અસમર્થ

(ક) બિનલાયક

(ડ) ક્ષણિક

૪૨. દુશ્મનાવટ / શત્રુતા

(અ) સૌજન્ય

(બ) આગતા-સ્વાગતા

(ક) સંબંધ

(ડ) મિત્રતા

૪૩. ભીડ

(અ) વ્યસ્ત

(બ) ગીચ વસ્તીવાળું

(ક) શાંત

(ડ) વેરાન

૪૪. રમૂજ

(અ) લાગણીશીલ

(બ) દુઃખદ

(ક) કરામતું

(ડ) દુઃખદાયક

૪૫. કમનસીબ

(અ) આનંદી

(બ) અવિરોધી

(ક) નસીબદાર

(ડ) ઘાટીલું

[20]
(E)**SARDAR PATEL UNIVERSITY****January : 2021 EXAMINATION, B.COM. SEMESTER : III****THURSDAY, 7/01/2021****MORNING SESSION TIME : 10.00 AM TO 12.00****SUBJECT CODE : UB03SCOM07****REASONING ABILITY - I****TOTAL MARKS : 60**

Q-1 Give meaning of Public Examination and make a list of public exam. Explain any one of them in details. [15]

OR

Q-1 (A) Write a short note on importance of Aptitude. [08]

Q-1 (B) Differentiate between reasoning ability and General Knowledge. [07]

Q-2 **Each question is compulsory & carry one mark.** [15]

(1) 3, 8, 13, 18, 23, 28, 33

(A) 39 44

(B) 38 44

(C) 38 43

(D) 37 42

(2) 9 12 11 14 13 16 15

(A) 14 13

(B) 18 21

(C) 14 17

(D) 18 17

(3) Which word does NOT belong with the others?

(A) Branch

(B) Dirt

(C) Leaf

(D) Root

(4) ELFA, GLHA, ILJA, _____ MLNA

(A) OLPA

(B) KLMA

(C) LLMA

(D) KLLA

(5) In a certain code, MENTION is written as LNEITNO. How is PATTERN written in that code?

(A) ATAETNR

(B) OTAETNR

(C) OTAESNR

(D) STAETNR

(6) CONDUCTOR : ORCHESTRA

(A) Jockey : mount

(B) Thrasher : hay

(C) Driver : tractor

(D) Skipper : crew

(7) JAUNDICE : LIVER

(A) Rash : Skin

(B) Dialysis : Kidney

(C) Smog : lung

(D) Valentine : heart

(8) Which number is suitable for L+B-P?

(A) 2

(B) -2

(C) 5

(D) -5

(9) In a certain code, SIKKIM is written as THLJLL, how is TRAINING written in that code?

(A) SQBHOHOF

(B) UQBHOIOF

(C) UQBHOHOI

(D) UQBHOHOF

[13]

EP-DOJ

From this information answer the question 10 to 12 :

Six girls are sitting in a circle facing to the centre of the circle. They are P, Q R, S, T and V. T is not between Q and S but some other one. P is next to the left of V. R is 4th to the right of P.

- (10) Which of the following statement is not true?
- (A) S is just next to the right to R. (B) T is just next to the right of V.
(C) R is second to the left of T (D) P is second to the right of R.
- (11) If P and R interchange their positions then which of the following pair will sit together?
- (A) RT (B) PV
(C) VT (D) QV
- (12) What is the position of T?
- (A) Just next to the right of Q (B) Second to the left of P
(C) Between Q and R (D) To the immediate right of V
- (13) John crashed his truck because
- (A) He was driving (B) He was driving too fast
(C) He was driving sincerely (D) He was foolish

For question no. 14 and 15

- (A) If the statement is fact (B) If the statement is advice
(C) If the statement is opinion (D) If the statement is prejudice
- (14) Dog fur is pretty
- (A) A (B) B
(C) C (D) D
- (15) The beatles were a band
- (A) A (B) B
(C) C (D) D

Q-3

Each question is compulsory & carry one mark.

[15]

For Question no 16 to 20:

The following table gives the sales of batteries manufactured by a company over the years.

Number of Different Types of Batteries sold by a Company over the years
(Numbers in Thousand)

Year	Types of Batteries					
	4AH	7AH	32AH	35AH	55AH	Total
1992	75	144	114	102	108	543
1993	90	126	102	84	126	528
1994	96	114	75	105	135	525
1995	105	90	150	90	75	510
1996	90	75	135	75	90	465
1997	105	60	165	45	120	495
1998	115	85	160	100	145	605

- (16) What was the approximate percentage increase in the sales of 55AH batteries in 1998 compared to that in 1992?
- (A) 28% (B) 31%
(C) 33% (D) 34%
- (17) The total sales of all the seven years is the maximum for which battery?
- (A) 4AH (B) 7AH
(C) 32AH (D) 35AH

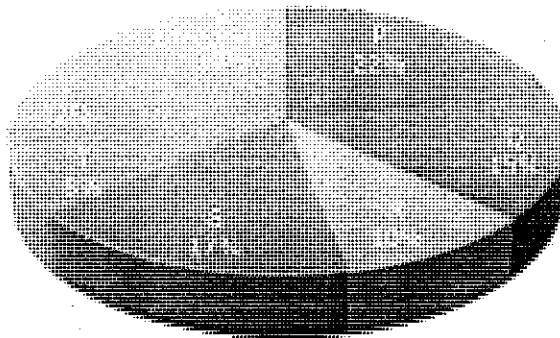
- (18) What is the difference in the number of 35AH batteries sold in 1993 and 1997?
 (A) 24000 (B) 28000
 (C) 35000 (D) 39000
- (19) The percentage of 4AH batteries sold to the total number of batteries sold was maximum in the year?
 (A) 1994 (B) 1995
 (C) 1996 (D) 1997
- (20) In case of which battery there was a continuous decrease in sales from 1992 to 1997?
 (A) 4AH (B) 7AH
 (C) 32AH (D) 35AH

Instruction for Question no. 21 to 25 :

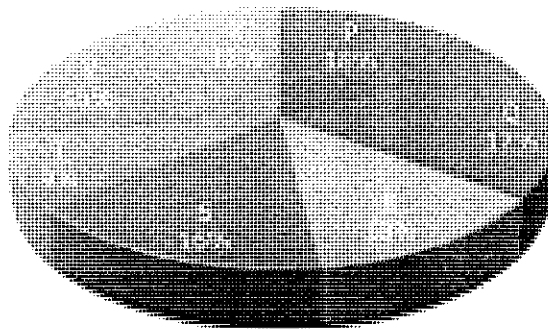
Study the following graph carefully and answer the questions given below:

Distribution of candidates who were enrolled for MBA entrance exam and the candidates (out of those enrolled) who passed the exam in different institute :

Candidates Enrolled = 2550



Candidates who Passed the Exam = 5700



- (21) What percentage of candidates passed the Exam from institute T out of the total number of candidates enrolled from the same institute?
 (A) 50% (B) 62.5%
 (C) 75% (D) 80%
- (22) Which institute has the highest percentage of candidates passed to the candidates enrolled?
 (A) Q (B) R
 (C) V (D) T
- (23) The number of candidates passed from institutes S and P together exceeds the number of candidates enrolled from institutes T and R together by:
 (A) 228 (B) 279
 (C) 399 (D) 407

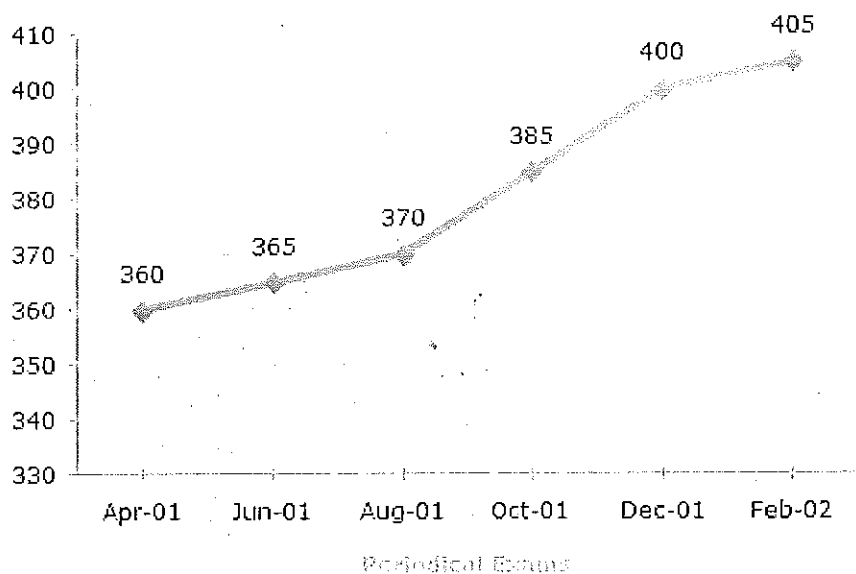
- (24) What is the percentage of candidates passed to the candidates enrolled for institutes Q and R together?
- (A) 68% (B) 80%
(C) 74% (D) 65%
- (25) What is the ratio of candidates passed to the candidates enrolled from institute P?
- (A) 9 : 11 (B) 14 : 17
(C) 6 : 11 (D) 9 : 17

Instructions for Question No. 26 to 30 :

In a school the periodical examination are held every second month. In a session during April 2001 - March 2002, a student of Class IX appeared for each of the periodical exams. The aggregate marks obtained by him in each periodical exam are represented in the line-graph given below.

Marks Obtained by student in Six Periodical Held in Every Two Months During the Year in the Session 2001 - 2002.

Maximum Total Marks in each Periodical Exam = 500



- (26) In which periodical exams did the student obtain the highest percentage increase in marks over the previous periodical exams ?
- (A) June, 01 (B) August, 01
(C) Oct, 01 (D) Dec, 01
- (27) The total number of marks obtained in Feb. 02 is what percent of the total marks obtained in April 01 ?
- (A) 110% (B) 112.5%
(C) 115% (D) 116.5%
- (28) What is the percentage of marks obtained by the student in the periodical exams of August, 01 and Oct, 01 taken together ?
- (A) 73.25% (B) 75.5%
(C) 77% (D) 78.75%
- (29) What are the average marks obtained by the student in all the periodical exams during the last session?
- (A) 373 (B) 379
(C) 381 (D) 385

- (30) In which periodical exams there is a fall in percentage of marks as compared to the previous periodical exams ?

(A) None (B) June, 01
(C) Oct, 01 (D) Feb, 02

Q-4

Each question is compulsory & carry one mark.

[15]

Instruction for Question No. 31 to 35 :

Read paragraph carefully and answer the following question

At this stage of civilisation, when many nations are brought in to close and vital contact for good and evil, it is essential, as never before, that their gross ignorance of one another should be diminished, that they should begin to understand a little of one another's historical experience and resulting mentality. It is the fault of the English to expect the people of other countries to react as they do, to political and international situations. Our genuine goodwill and good intentions are often brought to nothing, because we expect other people to be like us. This would be corrected if we knew the history, not necessarily in detail but in broad outlines, of the social and political conditions which have given to each nation its present character.

- (31) According to the author of 'Mentality' of a nation is mainly product of its
(A) History (B) international position
(C) Politics (D) present character
- (32) The need for a greater understanding between nations
(A) was always there (B) is no longer there
(C) is more today than ever before (D) will always be there
- (33) The character of a nation is the result of its
(A) Mentality (B) cultural heritage
(C) gross ignorance (D) socio-political conditions
- (34) According to the author his countrymen should
(A) read the story of other nations (B) have a better understanding of other nations
(C) not react to other actions (D) have vital contacts with other nations
- (35) Englishmen like others to react to political situations like
(A) Us (B) themselves
(C) others (D) each others

Instructions for Question No. 36 to 40 :

Choose the synonyms / similar word which best expresses the meaning of the given word.

- (36) NEUTRAL
(A) Unbiased (B) Non-aligned
(C) Undecided (D) Indifferent
- (37) SHALLOW
(A) Artificial (B) Superficial
(C) Foolish (D) Worthless
- (38) DIVERSION
(A) Amusement (B) Distortion
(C) Deviation (D) Bylane
- (39) INSOLVENT
(A) Poor (B) Bankrupt
(C) Penniless (D) Broke

(40) INEXPLICABLE

(A) Confusing

(B) Unaccountable

(C) Chaotic

(D) Unconnected

Instruction for Question No. 41 to 45 choose the word which is the exact antonyms / opposite of the given words:

(41) ABLE

(A) Disable

(B) Inable

(C) Unable

(D) Misable

(42) HOSTILITY

(A) Courtesy

(B) Hospitality

(C) Relationship

(D) Friendliness

(43) CROWDED

(A) Busy

(B) Congested

(C) Quiet

(D) Deserted

(44) COMIC

(A) Emotional

(B) Tragic

(C) Fearful

(D) Painful

(45) HAPLESS

(A) Cheerful

(B) Consistent

(C) Fortunate

(D) Shapely